

SARRERA


Irakaslea: Jonan Gomez Barrenetxea

Proiektua: Abstrakzio Geometrikoaren 2. atala,
MUGIMENDUA MODU ABSTRAKTUAN
ADIERAZTEN

Maila: DBHko 3. maila

Arloa: Plastikaren eta Ikusizkoen Hezkuntza





Kontrastedun zirkuluak.
Ainhoa Totorika. 2009

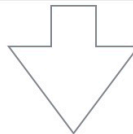
ZATIAK eta OSOTASUNA

1. Zeintzuk zatik osatzen dute osotasuna?
2. Zer gertatuko litzateke zati bat faltako balitz?
3. Zein da zati bakoitzaren funtzioa?
4. Nola harremantzen dira zati desberdinak osotasunak bere eginkizuna betetzeko?



Zatiak-osotasuna: loturak zehaztu

OSOTASUNA:

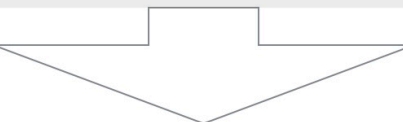


Objektuaren zatiak:

--	--	--

Hausnartutako
zatia:

Zati hau kentzeak objektuan dituen ondorioak:



Zein da zatiaren funtzioa:



METAEZAGUTZAREN ESKAILERA

1. Ze motako pentsamendua erabili dugu?
2. Nola egin dugu?
3. Egiteko era egokia izan al da? Zergatik?
4. Nola egingo genuke hurrengo batean?



METAEZAGUTZAREN ESKAILERA

4. Behar dugun hurrengo egoeran pentsamendu mota hau nola erabiliko dugun **planifikatu**.

3. Erabili dugun pentsamendurako strategiaren eraginkortasunari buruz **hausnartu eta ebaluazioa egin**.

2. Pentsamendu prozesuan erabiltzen ari garen **estrategia ezagutu**.

1. Erabiltzen ari garen **pentsamendu mota ezagutu**.

